

3月23日（月）の時間割（4年生）

1限	2限	3限	4限	5限	6限
理科	算数	国語	外国語	図工	

24日（火）は登校日です。
みなさんに会えるのが、とても楽しみです！
作品やころころゲーム等を持ち帰ります。
持ち帰り用の大きな袋を、わすれずに。

体育の色ぼうしと給食のエプロン（洗って）、かりた本（ある人）を持ってきましょう。



先生からのメッセージ

毎日、元気に過ごしていますか？

道徳「ポロといっしょ」は、読みましたか？災害のために、いつもと違う生活をしている主人公は、今のわたしたちとにているように思います。こんなときには、周りの人たちにも気をくばり、親切にできるといいですね。先生は、この話を読んで「情け（なさけ）は、人のためならず」ということわざを思い出しました。このことわざを知っていますか？辞典で調べたり、おうちの人と話したりしてみましょう。今日も、自分にきびしく、人に優しく過ごしましょう。

○国語 4年生の漢字をふりかえりましょう。字の形だけでなく、書き順も確かめておきましょう。（4月に、テストがあります）

○算数 教科書113、114p「算数の考えを使ったクイズ・パズルにちょう戦」
答えは、次のページ。

3学期の計算ドリルは、終わりましたか？まだの人は、がんばりましょう。答え合わせもします。答えをまだもらっていない人は、24日に先生に言ってくださいね。

○社会

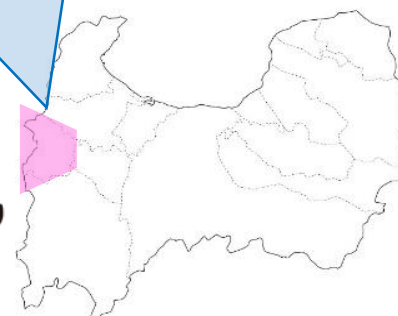
<富山県クイズ>

どの市町村でしょうか？

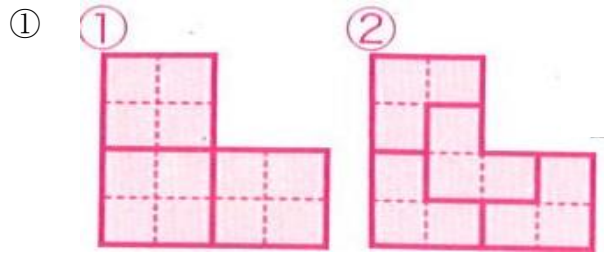
大きなタワーがあります。
市の特産物はメルヘン米、
ホワイトラーメン等
メルヘン建ちくも有名です。

答えは、小矢部市。

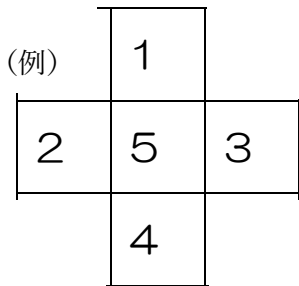
小矢部市の場所は、ここ！
砺波市のおとなりです。



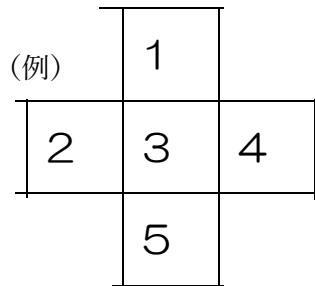
算数の考えを使ったクイズ・パズルにちょう戦 答え



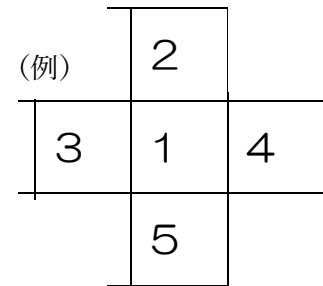
② (10の場合)




(9の場合)



(8の場合)



- ③
- ① $1 + 2 + 3 = 1 \times 2 \times 3$
 - ② $12 - 6 - 2 = 12 \div 6 + 2$
 - ③ $4 \times 2 + 3 \times 1 = 4 + 2 \times 3 + 1$



- ⑤
- ① 3枚のコインのうち、2枚選んで、左右の天びんにのせる。
かたむいた場合は、軽い方がにせ物。
つり合った場合は、天びんにのせなかったコインがにせ物。
 - ② (1) まずコインを3枚ずつ3つのグループに分け、そのうちの2つのグループを選び、天びんに乗せてはかる。
(2) (1)でかたむいた場合は、軽いグループの3枚のうち2枚選んで①のようにはかって比べる。
(3) (1)でつり合った場合は、天びんに乗せなかったグループの3枚を①のようにはかって比べる。

⑥ C、D、A、B

$A < B$ 、 $C < A$ より、 $C < A < B$ $D < A$ 、 $C < D$ より、 $C < D < A$
 $C < A < B$ 、 $C < D < A$ より、 $C < D < A < B$